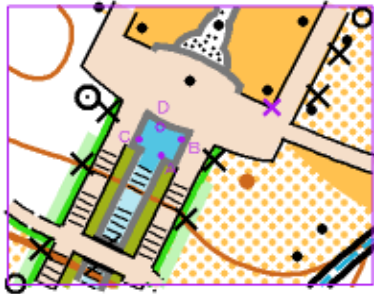


吉備高原トレイル・オリエンテーリング正解表

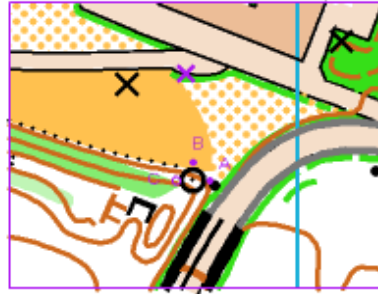
TNクラス

1. 小さい池、北のふち



正解: D

2. 記念碑、西側



正解: C

3. 花だん、南側



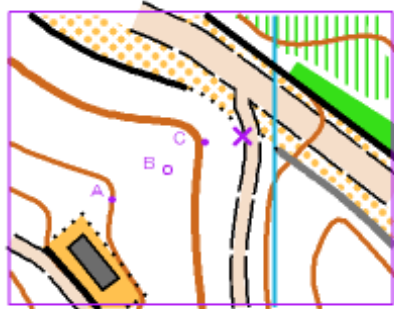
正解: A

4. 南のフェンス、西の終り



正解: B

5. 沢



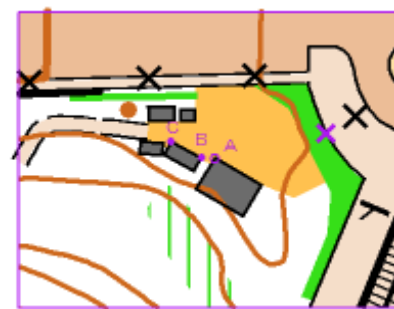
正解: B

6. 小さい池、北側



正解: A

7. 東の建物、北の角



正解: A

記号説明

- × デジション・ポイント
- フラッグの位置
- 正解フラッグの位置

地図の方位

